

3 上 階段評估（三）

（包含 3 上 B 單元 5 至 6 的學習內容）

建議時間：30 分鐘

姓名：_____

班別：_____（ ）

日期：_____

成績：_____/28

① $85 \div 7 = \underline{12 \cdots 1}$ (1 分)

② $474 \div 6 = \underline{79}$ (1 分)

③ $760 \div 5 = \underline{152}$ (1 分)

④ $923 \div 3 = \underline{307 \cdots 2}$ (1 分)

⑤ 在空格內填上正確的數字。 (1 分)

$$\begin{array}{r}
 \boxed{7} 3 \\
 8 \overline{) \boxed{5} 8 4} \\
 \underline{5 \boxed{6} } \\
 \boxed{2} 4 \\
 \underline{ 2 4}
 \end{array}$$

全對才給分

⑥ 以下哪一項是正確的？ (1 分)

☐ A. $6 \overline{) 642}$
 ☐ B. $6 \overline{) 642}$
 ☐ C. $6 \overline{) 642}$
 ☒ D. $6 \overline{) 642}$

$\begin{array}{r} 17 \\ 170 \end{array}$

⑦ 多少個「4」相加後的總和是 64？ (1 分)

☐ A. 11
 ☒ B. 16
 ☐ C. 246
 ☐ D. 256

⑧ 一籠蝦餃有 4 件。5 名點心師傅共做了 860 件蝦餃，他們共做了蝦餃 215 籠。 (1 分)

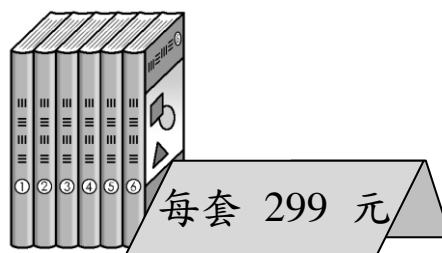
- ⑨ 有口香糖 78 片，每 5 片裝成一包，共可裝成多少包？餘下多少片？(列式計算) (3 分)

$$\begin{aligned} 78 \div 5 \\ = 15 \cdots 3 \\ \text{共可裝成 } 15 \text{ 包，餘下 } 3 \text{ 片。} \end{aligned}$$

- ⑩ 有童軍 256 人，平均分成 6 組，每組有多少人？餘下多少人？(列式計算) (3 分)

$$\begin{aligned} 256 \div 6 \\ = 42 \cdots 4 \\ \text{每組有 } 42 \text{ 人，餘下 } 4 \text{ 人。} \end{aligned}$$

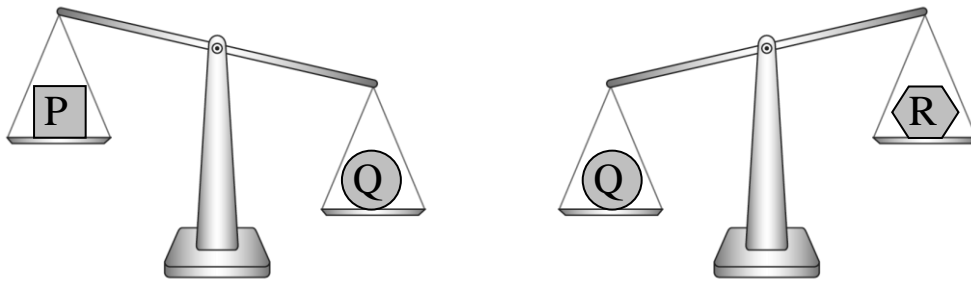
- ⑪ 雅文打算購買一套右面的小說。
如果她每天儲蓄 7 元，要購買這套小說，最少需要儲蓄多少天？(列式計算)



(3 分)

$$\begin{aligned} 299 \div 7 \\ = 42 \cdots 5 \\ \text{最少需要儲蓄 } 43 \text{ 天。} \end{aligned}$$

12

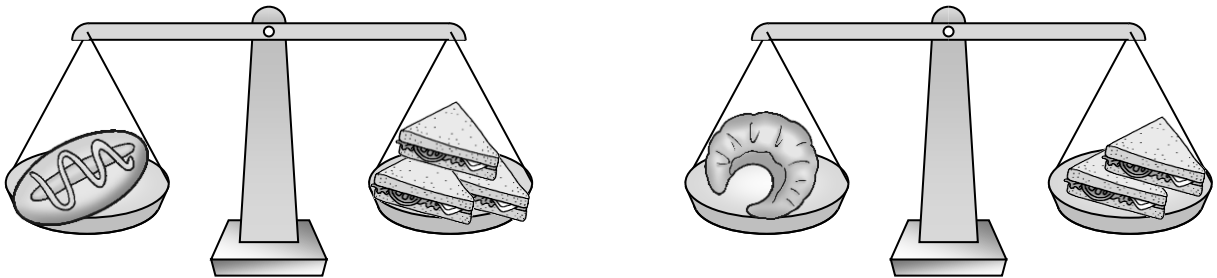


根據上面的結果，哪件物件最重？

(1 分)

答案：* ☐ P / ☒ Q / ☐ R 最重。(* 圈出答案)

13




最重的是 * ☒ round cookie / ☐ crescent moon cookie / ☐ sandwich ,

最輕的是 * ☐ round cookie / ☐ crescent moon cookie / ☒ sandwich 。(* 圈出答案)

每個答案 1 分

(2 分)

14






下面哪個可能是上圖中  的重量？

(1 分)

☒ A. 120 g ☐ B. 160 g ☐ C. 180 g ☐ D. 20 kg

⑮



*  /  較重，它們的重量相差 200 克。

(* 圈出答案) 全對才給分

(1 分)

⑯ 在下列各項填上適當的重量單位。

(a) 一隻小狗重約 4 公斤 / kg。

(1 分)

(b) 一把剪刀重約 100 克 / g。

(1 分)

(c) 一盒餅乾重約 400 克 / g。

(1 分)

⑰ 填填看。

(a) 8 公斤 = 8000 克

(1 分)

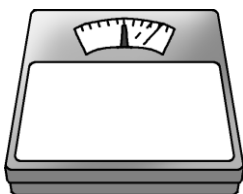
(b) 2 kg 50 g = 2050 g

(1 分)

⑱ 下面哪一種工具最適合用來量度一個花瓶的重量？

(1 分)

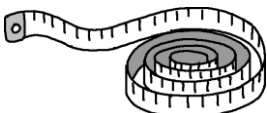
○ A.



☒ B.



○ C.



○ D.



— 全卷完 —

19TEST310.3T 19TEST310.3S